

LÍNGUA PORTUGUESA

1) Leia o texto a seguir.



LEITE, Will. *Eu tô na fila certa?* 12 de novembro de 2023.

Nessa tirinha, pode-se inferir que

- assumir os próprios erros é considerado mais doloroso do que extrair dentes sem anestesia.
- a espera nas filas para a extração de dentes é sempre longa.
- extrair dentes com anestesia é mais difícil do que alguém assumir seus próprios erros.
- extrair dentes sem anestesia e assumir os próprios erros são ações igualmente assustadoras.
- assumir os próprios erros não compensa se a pessoa ainda não extraiu dentes sem anestesia.

2) Assinale a alternativa em que a classificação sintática da expressão sublinhada esteja correta entre os colchetes.

- Trilhas sonoras de filmes e de séries são ótimas para a concentração. [PREDICATIVO DO SUJEITO]
- Meus filhos adoram soltar pipa durante as férias escolares. [ADJUNTO ADNOMINAL]
- Cláudio viu dois filhotinhos de gato perdidos na rua. [OBJETO INDIRETO]
- A correia dentada do meu carro arrebentou antes do prazo de troca. [APOSTO EXPLICATIVO]
- Os parques aquáticos são destinos muito procurados pelas pessoas no verão. [VERBO INTRANSITIVO]

3) Leia o trecho de uma canção apresentado abaixo.

Que você se

*Tudo que você me fez eu lhe desejo em dobro
Você vai pagar por tanto desaforo
De lhe ver sorrir enquanto eu chorava em vão*

*Eu quero que você se dane
Que você se lasque
Que você se engasgue
Que você se engane
Que você me chame pra que eu possa dizer não*

*Eu quero que seu carro quebre
Que seu peito caia*

*Que a chuva estrague seu dia de praia
Que um prego rasgue a sua minissaia
Que seu novo amor no final lhe traia
Que você tropece
Que você trupique
Que se estrumbique e dê o seu chilique
Que você comece, depois perca o pique
Que alguém copie o seu vestido chique
[...]*

PEDRA LETÍCIA. *Que você se*. *Eu sou pedreiro*. 2011.

Qual é o modo verbal que estrutura a segunda e a terceira estrofes desse trecho?

- Indicativo.
- Imperativo.
- Subjuntivo.
- Particípio.
- Infinitivo.

4) Leia o trecho abaixo, observando o conectivo em destaque.

“Macabéa é personagem de *A Hora da Estrela*, novela que Clarice Lispector (1920-1977) publicou em 1977, e que traz como principal novidade a tentativa de fuga da autora de uma escrita intimista que a perseguiu desde sempre. Clarice é reconhecida por construções de diálogos interiores, por filosofar sobre o mundo dos homens e dos bichos; uma escrita que muitas vezes não quer e não pode chegar a lugar algum, dado que seu projeto estético era também essa indefinição de fim; **no entanto**, Macabéa tem seu final garantido pelo narrador, que, neste caso, é um homem, porque talvez uma mulher que narrasse a vida dessa pobre datilógrafa nordestina, teria hesitado em lhe dar o fim que lhe coube. [...]”

MARTINS, Georgina. *A cartomante de Clarice*. *Ciência Hoje*, setembro de 2023. Coluna Literária.

O conectivo grifado pode ser substituído, sem que haja alteração no sentido do enunciado, por

- “ademais”.
- “desse modo”.
- “portanto”.
- “outrossim”.
- “contudo”.

5) Qual dos pares de vocábulos abaixo NÃO está escrito conforme a ortografia oficial da língua portuguesa?

- póstumo | pesticida
- micróbio | bactéria
- perseção | prestígio
- opinião | placebo
- mortuário | mesário

6) Recebe acento gráfico o seguinte trio de palavras:

- a) “residencial”, “fenomenal” e “consciente”.
- b) “saude”, “suiço” e “moida”.
- c) “urubu”, “jacu” e “tupi”.
- d) “coisa”, “gratuito” e “meio”.
- e) “clero”, “clara” e “melro”.

7) Qual é o sujeito da oração “Nos últimos anos, as agressões ao ambiente e o desrespeito à natureza contribuíram para o aumento de doenças infecciosas no mundo.” (*Ciência Hoje das Crianças*, 31/08/2023)?

- a) “Nos últimos anos”
- b) “as agressões ao ambiente”
- c) “as agressões ao ambiente e o desrespeito à natureza”
- d) “o aumento de doenças infecciosas”
- e) “o aumento de doenças infecciosas no mundo”

8) No período “Nesta sexta-feira (17/11), Sam Altman — uma das mentes mais brilhantes da emergente indústria da Inteligência Artificial, um homem que para muitos se tornou o porta-voz da AI — foi demitido sem cerimônia da empresa que cofundou.” (*BBC Brasil*, 18/11/23), em qual voz verbal se encontra a oração fora dos travessões?

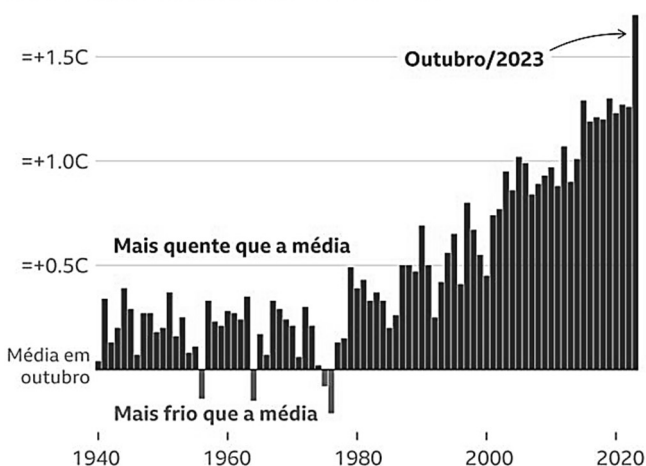
- a) Ativa.
- b) Passiva analítica.
- c) Passiva sintética.
- d) Reflexiva.
- e) Reflexiva recíproca.

9)

Leia o texto a seguir.

Outubro de 2023 é o mais quente já registrado

Temperatura média global em outubro por ano, comparada com médias de outubro entre 1850-1900



Fontes: ERA5, C3S/ECMWF

BBC

McGRATH, Matt; POYNTING, Mark. É 'praticamente certo' que 2023 será o ano mais quente já registrado, indicam novos dados. *BBC Brasil*, 08 de novembro de 2023.

De acordo com esse texto,

- a) de 2020 a 2023, não houve registro, no mundo, de temperaturas com +1,5°C de variação em relação à média esperada para o mês de outubro.
- b) o aumento da temperatura esperada para o mês de outubro no planeta ultrapassou +1°C já a partir dos anos 1980.
- c) os meses de outubro compreendidos entre os anos de 1940 e de 1960 que apresentaram temperatura acima da média esperada para o mês atingiram mais de +0,5°C de diferença para tal média.
- d) o aumento mais expressivo da temperatura esperada para o mês de outubro no mundo aconteceu entre os anos de 1980 e de 2000.
- e) houve somente quatro meses de outubro compreendidos entre 1940 e 2023 que registraram uma temperatura abaixo da média esperada para esse mês.

10) Dentre os grupos de palavras abaixo, aquele que apresenta a separação silábica correta de todas as palavras que o compõem é

- a) ad-vo-ga-do | mi-nu-ci-o-so | ob-je-ti-fi-car.
- b) pe-ca-dor | so-be-ra-nia | mo-me-nto.
- c) pe-i-xe | ar-tró-po-de | sa-ma-mba-ia.
- d) po-li-cial | agro-no-mia | en-ge-nhe-iro.
- e) ce-pi-a-do-ra | ce-lu-lar | pa-ra-li-sia.

11) Assinale a alternativa em que se pode constatar o uso de um predicado nominal.

- a) “Na tarde desta quarta-feira, o Santos divulgou informações sobre a venda de ingressos para o duelo diante do Fluminense, pelo Campeonato Brasileiro.” (*Terra*, 22/11/23)
- b) “Produções aguardadas pelo público, como ‘Napoleão’, ‘Wonka’ e ‘Aquaman 2’, chegam às telonas ainda em 2023.” (*CNN Brasil*, 23/11/23)
- c) “Apresentador do programa *Que História é Essa, Porchat?*, o humorista Fabio Porchat terá um especial de final de ano na Globo.” (*MSN*, 22/11/23)
- d) “Abel Ferreira não vai responder oferta ou sondagem de qualquer clube até o apito final da última rodada do campeonato Brasileiro.” (*UOL*, 23/11/23)
- e) “O aumento dos incêndios florestais, das inundações e das secas em todo o mundo são apenas alguns dos sinais altamente visíveis das mudanças climáticas.” (*BBC Brasil*, 22/11/23)

12) Dentre as sentenças abaixo, uma NÃO apresenta a(s) vírgula(s) empregada(s) de maneira correta. Identifique essa sentença.

- a) Os animais de estimação da fazenda, que adoeceram misteriosamente, recuperaram-se bem.
- b) Faço das suas as minhas alegrias, compadre!
- c) Muitos abraços e beijos depois, o casal decidiu morar junto.
- d) Minhas meias de unicórnio, ficaram manchadas depois da lavagem.

e) As lacraias são artrópodes, isto é, têm pernas articuladas.

13) Leia o excerto abaixo.

“O conflito iniciado em 7 de outubro entre o Hamas, que controla a Faixa de Gaza, e Israel já matou mais de 14 mil pessoas. É o capítulo mais recente (e um dos mais violentos) do longo histórico de conflitos territoriais que acontecem na região desde a Antiguidade. [...]”

BATTAGLIA, Rafael. Israel e Palestina: o contexto histórico. *Superinteressante*, 22 de novembro de 2023. Qual das palavras a seguir recebe a classificação de adjetivo, tendo em vista seu emprego no trecho acima?

- a) “conflito”.
- b) “controla”.
- c) “pessoas”.
- d) “histórico”.
- e) “territoriais”.

14) A palavra “como”, empregada duas vezes na tirinha abaixo, veicula sentidos diferentes em cada ocorrência. Assinale a alternativa que identifica, correta e respectivamente, tais sentidos.



@DONA. ANÉSIA

LEITE, Will. *Anésia* #721. 18 de novembro de 2023.

- a) Estatuto (de algo ou de alguém) e comparação.
- b) Causa e conformidade.
- c) Comparação e conformidade.
- d) Conformidade e causa.
- e) Causa e estatuto (de algo ou de alguém).

MATEMÁTICA

15) Marcela tinha um conjunto de 20 canetinhas e, após utilizá-las, esqueceu 7 delas secaram pois ficaram destampadas. Dessa forma, quantas canetinhas Marcela ainda possui?

- a) 11

- b) 12
- c) 13
- d) 14
- e) 15

16) Um determinado hotel possui capacidade máxima para 120 hóspedes. Considerando que o hotel possui 24 quartos, todos com a mesma capacidade, quantos hóspedes cabem em cada quarto?

- a) 1
- b) 2
- c) 3
- d) 4
- e) 5

17) Um ônibus de viagem possui 45 poltronas. Se foram compradas apenas 31 passagens, quantos assentos ficaram vazios nesse ônibus?

- a) 11
- b) 14
- c) 17
- d) 20
- e) 23

18) Renata é professora e deseja presentear cada um de seus 32 alunos com 2 lápis e 3 pirulitos. Quantos lápis e quantos pirulitos, respectivamente, Renata terá que comprar?

- a) 32 lápis e 64 pirulitos.
- b) 64 lápis e 96 pirulitos.
- c) 64 lápis e 128 pirulitos.
- d) 96 lápis e 64 pirulitos.
- e) 128 lápis e 32 pirulitos.

19) A prefeitura de uma cidade realizou uma festa em comemoração ao dia das crianças. O número de crianças presentes nesse evento foi de 3746. Esse número escrito em extenso é:

- a) três mil setecentos e quarenta e seis.
- b) trinta e sete mil e quarenta e seis.
- c) três mil e setenta e quatro e seis.
- d) trezentos e setenta e quatro e seis.
- e) trinta mil setecentos e quarenta e seis.

20) Alice e Bárbara frequentam a mesma academia. Alice vai 3 dias seguidos na academia e descansa no 4º dia. Bárbara vai 9 dias seguidos e não vai no 10º dia. Considerando que no dia 1º de agosto elas nenhuma das duas foi a academia, o próximo dia que as duas irão tirar folga juntas novamente será:

- a) 9
- b) 10
- c) 15
- d) 18
- e) 20

CONHECIMENTOS ESPECÍFICOS

21) Para garantir a integridade dos alunos durante o trajeto escolar, é necessário verificar todos os requisitos básicos de segurança do veículo escolar, como:

- I. a idade do veículo, lotação máxima, saídas de emergência e cintos de segurança adequados.
- II. saída de emergência destacadas na cor amarela, dez cintos de segurança e dois assentos portáteis.
- III. extintores de incêndio, caixas de primeiros socorros, sistemas de retenção e tacógrafo.
- IV. cintos de segurança para crianças a partir de 2 anos, sistemas de retenção e tacógrafo.

Está correto o que se afirma em:

- a) I e II.
- b) II e III.
- c) I, II e III.
- d) I e III.
- e) III e IV.

22) A segurança individual e coletiva no transporte escolar é fundamental para prevenir acidentes e garantir o bem-estar dos estudantes. Relacione a 2ª coluna de acordo com a 1ª coluna.

1ª coluna:

- 1- individual.
- 2- coletiva.

2ª coluna:

- () extintor de incêndio adequado e em conformidade com as regulamentações locais.
- () sistema de comunicação de emergência eficiente entre o motorista e a escola.
- () dispositivos de retenção infantil para crianças menores, como assentos elevatórios.
- () saídas de emergência claramente identificadas e de fácil acesso para evacuação rápida.
- () acesso a cintos de segurança adequados para a utilização durante todo o percurso.

A sequência correta de cima para baixo é:

- a) 1 - 1 - 2 - 2 - 1.
- b) 2 - 2 - 1 - 2 - 1.
- c) 1 - 2 - 2 - 2 - 2.
- d) 1 - 2 - 1 - 2 - 2.
- e) 1 - 1 - 1 - 1 - 2.

23) O Código de Trânsito Brasileiro, apresenta um conjunto de normas que estabelece as diretrizes específicas que visam garantir a integridade física e o

bem-estar dos estudantes durante suas viagens. No artigo 136, os veículos especialmente destinados à condução coletiva de escolares somente poderão circular nas vias com autorização emitida pelo órgão ou entidade executivos de trânsito dos Estados e do Distrito Federal. Para a circulação de veículos escolares, é necessário:

- I. instalação apenas de lanternas na cor amarela.
- II. faixa amarela com a palavra ESCOLAR em preto.
- III. a pintura de uma faixa horizontal na cor vermelha.
- IV. a fixação do Certificado de Registro e Licenciamento.
- V. o equipamento registrador instantâneo de velocidade e tempo.

Está correto o que se afirma em:

- a) I, II e III.
- b) II e V.
- c) III e IV.
- d) III, IV e V.

24) A aplicação adequada da educação para o trânsito contribui significativamente para a prevenção de acidentes, pois ensina regras, direitos e deveres para o trânsito promovendo mudanças sociais na promoção de um ambiente seguro. Nesse contexto, a educação para o trânsito é promovida no Código de Trânsito Brasileiro:

- a) na educação infantil e séries iniciais.
- b) apenas no nível fundamental.
- c) em todos os níveis de ensino.
- d) somente no nível médio.
- e) na educação infantil apenas.

25) Os acidentes de trânsito costumam ser uma das principais causas de vítimas fatais no Brasil. O atendimento a vítima enquanto o socorro profissional não chega, pode manter as funções vitais e evitar o agravamento. Para que isso aconteça, o monitor de transporte escolar deve:

- I. movimentar bruscamente a cabeça da vítima.
- II. administrar analgésicos a vítima.
- III. verificar as vias aéreas da vítima.
- IV. identificar alguma hemorragia da vítima.

Está correto o que se afirma em:

- a) I e II.
- b) II e III.
- c) I, II e III.
- d) III e IV.
- e) I e IV.

26) As luzes de alerta do painel são a forma do carro avisar o motorista sobre problemas nos seus diversos

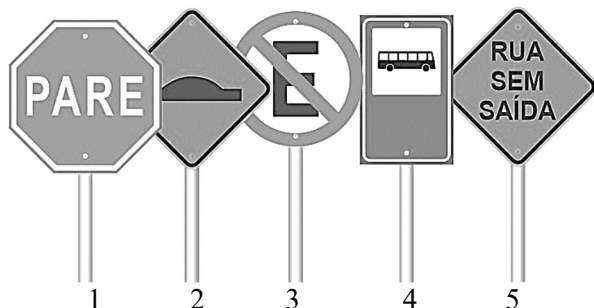
componentes ou o acionamento deles. Observe o aviso de alerta no painel do veículo e responda:



O aviso de alerta acima indica que:

- a) o superaquecimento do motor, problemas no sistema de arrefecimento, como nível da água.
- b) o freio de estacionamento está acionado, problemas no sistema de frenagem
- c) durante o uso do carro, ocorreu mau funcionamento no sistema de injeção eletrônica.
- d) existe falha na lubrificação do motor por problemas na bomba ou nas válvulas, vazamentos,
- e) houve problemas na própria bateria, no alternador ou em outro componente do sistema de recarga.

27) Observe as placas abaixo.



Em relação as placas acima, assinale a alternativa correta.

- a) As placas 2 e 5 são respectivamente de regulamentação.
- b) A placa 4 é de advertência e indicação de ônibus.
- c) As placas 1 e 3 são respectivamente de advertência.
- d) A placa 5 é de localização e a 2 de regulamentação.
- e) A placa 1 é de regulamentação e a 4 de serviços auxiliares.

28) A direção defensiva é importante para a manutenção da segurança no trânsito, porque é capaz de salvar vidas. Relacione a 2ª coluna de acordo com a 1ª coluna.

1ª coluna:

- 1- Preventiva.
- 2- Corretiva.

2ª coluna:

- () Estabelece que não vale a pena correr riscos desnecessários no trânsito e trocar a vida por alguns segundos ou minutos de pressa.
- () É a atitude que o motorista deverá tomar ao ser exposto a uma situação não prevista, em uma possibilidade de acidente.
- () É definida como a atitude permanente do motorista em evitar acidentes
- () Ato de conduzir o veículo da melhor forma quando se está em situação problemática.

A sequência correta de cima para baixo é:

- a) 1- 2 - 1 - 2.
- b) 2- 2 - 2 - 1.
- c) 1- 1 - 2 - 1.
- d) 2 -1 - 1- 2.
- e) 1- 1- 1 - 2.

29) Os acidentes de trânsito terrestres constituem um importante problema de saúde pública, sendo uma das principais causas de óbito no mundo. A colisão com veículo da frente, é um tipo de abaloamento que pode ser evitado quando o motorista:

- I. mantém uma distância segura do veículo à sua frente, especialmente em situações de tráfego intenso.
- II. presta sempre atenção aos retrovisores principalmente o que dá visão traseira.
- III. observa todos os lados e mantenha sempre uma velocidade constante com o veículo a frente.
- IV. evita o uso de celulares ou aparelhos que possam contribuir com a sua desatenção.

Está correto o que se afirma em:

- a) I, II e III.
- b) II e III.
- c) I, II e IV.
- d) II, III e IV.
- e) I, III e IV.

30) As técnicas para remoção e transporte de acidentados visam a proteção da vítima traumatizada, buscando evitar lesões secundárias, que são aquelas causadas após o trauma inicial. A técnica para o transporte do acidentado envolve:

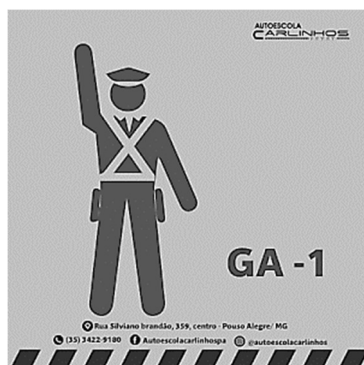
- I. Oferecer líquidos ou medicamento pegando o acidentado pelas costas e cobrindo-o para protegê-lo.
- II. De costas, passar os braços da vítima ao redor de seu pescoço, inclinando-a para frente e levantando-a.
- III. Pegar a vítima no colo e movimentar a sua cabeça cobrindo-o para manter a sua temperatura.

IV. Passar o braço do acidentado por trás da nuca do socorrista, que o segura com um de seus braços, passando seu outro braço por trás das costas do acidentado, em diagonal.

Está correto o que se afirma em:

- a) I e II.
- b) I, II e III.
- c) II e IV.
- d) II, III e IV.
- e) I e III.

31) Observe o gesto do agente de trânsito na imagem abaixo.



O gesto do agente de trânsito significa ordem de:

- a) parada a todos os veículos que venham pela frente ou por trás.
- b) parada de veículos que estão na direção da mão estendida.
- c) diminuição da velocidade de todos os veículos.
- d) parada obrigatória para todos os veículos.
- e) parada para os veículos aos quais a luz é direcionada.

32) O Código de Trânsito Brasileiro é um documento legal que prevê classificações para os tipos de veículo. Observe a imagem abaixo e responda.



O veículo apresentado na imagem é do tipo:

- a) tração.
- b) misto.
- c) propulsão humana.

- d) carga.
- e) especial.

33) Observe as placas de sinalização abaixo.



Assinale a alternativa CORRETA.

- a) a placa 1 designa uma parada obrigatória, se caracterizando no grupo de placas de advertência.
- b) a placa 2 designa uma parada obrigatória, se caracterizando no grupo de placas de regulamentação.
- c) a placa 2 designa uma parada obrigatória alertando o motorista a possível existência de serviços auxiliares.
- d) a placa 2 designa uma parada obrigatória alertando, se caracterizando no grupo de placas de advertência.
- e) placa 1 designa uma parada obrigatória à frente e a 2, uma obrigação de parada obrigatória.

34) O Estatuto da Criança e do Adolescente, reconhece que as crianças e adolescentes são sujeitos de direito em condição de desenvolvimento e, portanto, devem ser prioridade absoluta do Estado. O termo prioridade absoluta, significa:

- I. afirmação do pleno exercício da cidadania social.
- II. concretização dos direitos fundamentais.
- III. garantia de interesse sempre em primeiro lugar.
- IV. supressão dos direitos fundamentais.

Está correto o que se afirma em:

- a) III apenas.
- b) I, II e III.
- c) I e III apenas.
- d) III e IV.
- e) II e IV.

CONHECIMENTOS LOCAIS

35) De acordo com o IBGE (2022), a população do município de Presidente Sarney é de:

- a) 17.470 habitantes.
- b) 27.540 habitantes.
- c) 97.740 habitantes.
- d) 7.470 habitantes.
- e) 58.740 habitantes.

36) Setor econômico com maior participação no PIB do município de Presidente Sarney:

- a) Indústria.
- b) Turismo.
- c) Agropecuária.
- d) Mineração.
- e) Robótica.

37) Municípios que são limítrofes de Presidente Sarney:

- a) Pinheiro, Santa Helena e Serrano.
- b) Serrano, Santa Helena e Pedro do Rosário
- c) São Bento, Pinheiro, Serrano e São João Batista.
- d) Pinheiro, Santa Helena e Pedro do Rosário.
- e) Santa Helena, Serrano e Pedro do Rosário.

38) O município de Presidente Sarney localiza-se na mesorregião geográfica:

- a) Central maranhense.
- b) Sudeste maranhense.
- c) Leste maranhense.
- d) Sul maranhense.
- e) Norte maranhense.

39) Sobre o município de Presidente Sarney é correto afirmar que:

- () O município faz parte da bacia do rio Turiaçu.
- () O município está localizado no ponto mais extremo do estado do Maranhão.
- () No brasão do município está escrito igualdade e fraternidade.
- () Os primeiros habitantes foram espanhóis e portugueses.

A sequência correta é:

- a) V. F. V. V.
- b) F. V. V. F.
- c) V. F. V. F.
- d) V. F. F. V.
- e) V. V. F. F.

40) Presidente Sarney é uma cidade brasileiro do estado do Maranhão foi elevada à categoria de município em:

- a) 1996.
- b) 1994.
- c) 1998.
- d) 1991.
- e) 1989.